



Bottle flip challenge

Namen:.....



.....

.....






Op onderzoek!



Materiaal: Wat?

Plastic flesje 	Stift 
Maatbeker 	Water 

Methode: Hoe?

<p>1. Bepaal de inhoud van de fles.</p> <p>Onze fles heeft een inhoud van ml of cl.</p> <p>1/4 van de fles =ml of cl.</p> <p>1/2 van de fles =ml of cl.</p> <p>3/4 van de fles =ml of cl.</p> <p>1 volle fles =ml of cl.</p>	
<p>2. Zet streepjes op de fles 1/4, 1/2, 3/4, vol</p>	
<p>3. Gooi het flesje een aantal keer in de lucht om te oefenen. Iedereen probeert 5 keer.</p>	

4. Voer uit!

Inhoud		10 worpen  <input type="checkbox"/> <input checked="" type="checkbox"/>	Aantal gelukte worpen 
A 1/4	Naam		<input type="checkbox"/>
	Naam		<input type="checkbox"/>
	Naam		<input type="checkbox"/>
	Naam		<input type="checkbox"/>
B 1/2	Naam		<input type="checkbox"/>
	Naam		<input type="checkbox"/>
	Naam		<input type="checkbox"/>
	Naam		<input type="checkbox"/>
C 3/4	Naam		<input type="checkbox"/>
	Naam		<input type="checkbox"/>
	Naam		<input type="checkbox"/>
	Naam		<input type="checkbox"/>
D. Een volle fles	Naam		<input type="checkbox"/>
	Naam		<input type="checkbox"/>
	Naam		<input type="checkbox"/>
	Naam		<input type="checkbox"/>

Analyse en besluit:

Hoeveel procent van het aantal uitgevoerde worpen zijn gelukt?

	Aantal worpen	Aantal gelukte worpen	% Gelukte worpen
A 1/4			%
B 1/2			%
C 3/4			%
D Volle fles			%

Welke inhoud heeft het beste resultaat? A / B / C / D

Eindopdracht: Wedstrijd bottle flip...

Teken jouw wedstrijd fles

